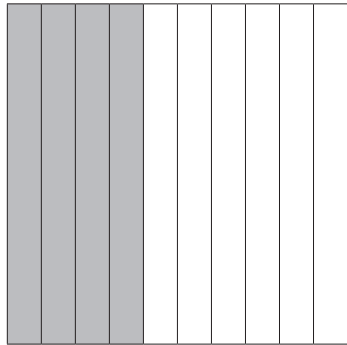


2 KOMMAGETALLEN LEZEN EN SCHRIJVEN

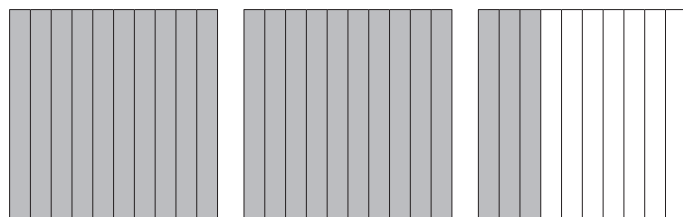


a Van breuk naar kommagetal

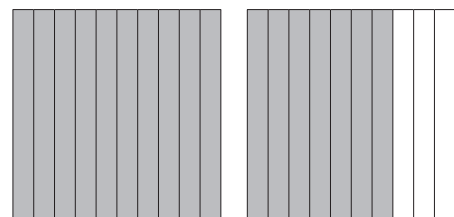
Wat is er gekleurd?



$\frac{4}{10} = \dots\dots\dots$ tienden = $\dots\dots\dots$




$\frac{4}{10} = \dots\dots\dots$ tienden = $\dots\dots\dots$




$\frac{14}{10} = \dots\dots\dots$ tienden = $\dots\dots\dots$

Kleur het gevraagde deel en vul aan.



$\frac{3}{10} = \dots\dots\dots$



16 tienden = $\dots\dots\dots$

b Getallendictee 

Noteer het getal eerst in de tabel. Schrijf het er dan naast.

H	T	E	,	t

→
 →

Nu zonder tabel!

.....

c Noteer de cijfers in de tabel en schrijf dan het getal op.

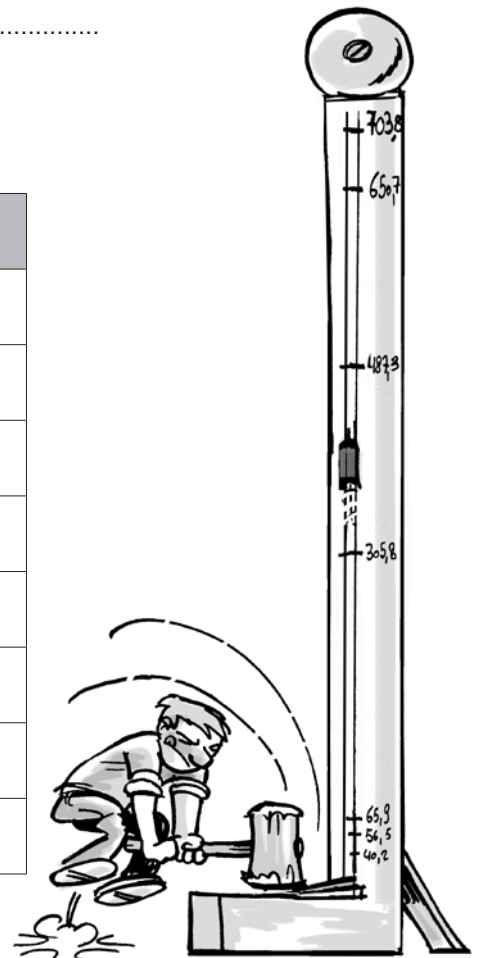
H	T	E	,	t

3T 5E 2t 1H →
 7E 3H 4t →
 5T 6t →
 5H 3t 6T →

d Splits de getallen. Schrijf ze eerst in de tabel.

H	T	E	,	t


487,3 =H +T +E +t
 305,8 =
 40,2 =
 65,9 =
 650,7 =
 56,5 =
 703,8 =
 258,3 =






a Van breuk naar kommagetal

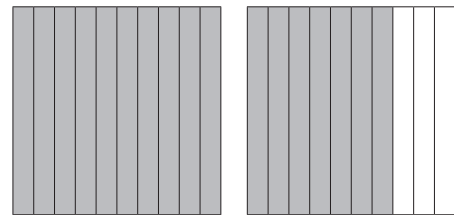
Wat is er gekleurd?



$\frac{4}{10} = \dots 4 \dots$ tienden = $\dots 0,4 \dots$

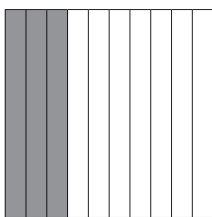


$\frac{23}{10} = \dots 23 \dots$ tienden = $\dots 2,3 \dots$

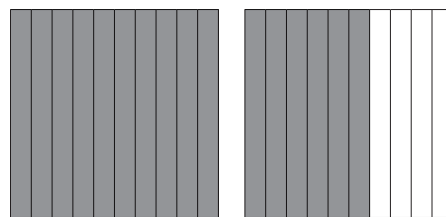


$\frac{17}{10} = \dots 17 \dots$ tienden = $\dots 1,7 \dots$

Kleur het gevraagde deel en vul aan.



$\frac{3}{10} = \dots 0,3 \dots$



16 tienden = $\dots 1,6 \dots$

b Getallendictee 

Noteer het getal eerst in de tabel. Schrijf het er dan naast.

H	T	E	,	t
		0	,	9
	5	0	,	1

→0,9.....

→50,1.....

Nu zonder tabel!

.....82,4.....

.....9,7.....

.....45,5.....

c Noteer de cijfers in de tabel en schrijf dan het getal op.

	H	T	E	,	t
3T 5E 2t 1H →	1	3	5	,	2
7E 3H 4t →	3	0	7	,	4
5T 6t →		5	0	,	6
5H 3t 6T →	5	6	0	,	3

→135,2.....

→307,4.....

→50,6.....

→560,3.....

d Splits de getallen. Schrijf ze eerst in de tabel.

	H	T	E	,	t
487,3 = ...4.H + ...8.T + ...7.E + ...3.t	4	8	7	,	3
305,8 = 3H + 5E + 8t.....	3	0	5	,	8
40,2 = 4T + 2t.....		4	0	,	2
65,9 = 6T + 5E + 9t.....		6	5	,	9
650,7 = 6H + 5T + 7t.....	6	5	0	,	7
56,5 = 5T + 6E + 5t.....		5	6	,	5
703,8 = 7H + 3E + 8t.....	7	0	3	,	8
258,3 = 2H + 5T + 8E + 3t.....	2	5	8	,	3

