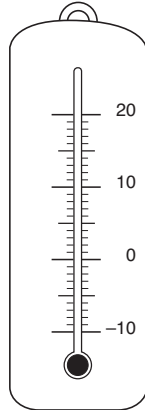


7 TEMPERATUUR



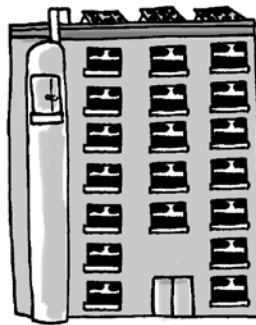
a Kleur de buis onder 0 °C in het blauw en boven 0 °C in het rood.



b Onder of boven 0?



Deze vissen zwemmen 5 m de zeespiegel.

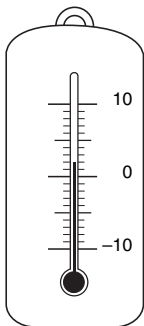


De lift staat nu 5 verdiepingen de begane grond.

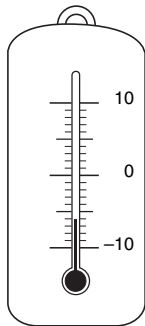


In de diepvriezer is het 17 graden 0.

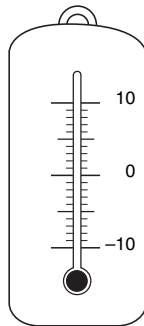
c Vul de temperatuur aan of kleur de thermometers in.



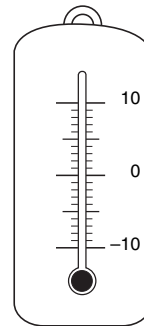
Het is onder 0 °C.
 Het is boven 0 °C.
Het is



Het is onder 0 °C.
 Het is boven 0 °C.
Het is



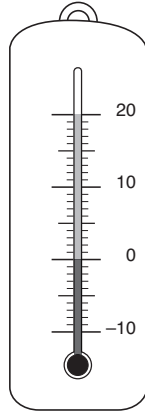
Het is onder 0 °C.
 Het is boven 0 °C.
Het is - 5 °C.



Het is onder 0 °C.
 Het is boven 0 °C.
Het is 1 °C.



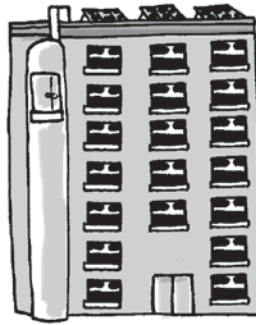
a Kleur de buis onder 0 °C in het **blauw** en boven 0 °C in het **rood**.



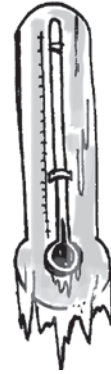
b Onder of boven 0?



Deze vissen zwemmen 5 m
.....**onder**..... de zeespiegel.

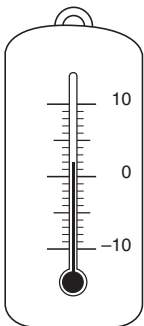


De lift staat nu 5 verdiepingen
.....**boven**..... de begane grond.

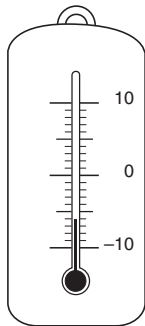


In de diepvriezer is het 17 graden
.....**onder**..... 0.

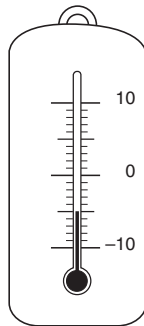
c Vul de temperatuur aan of kleur de thermometers in.



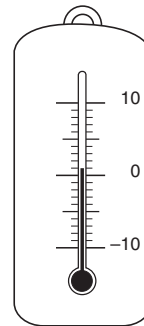
Het is onder 0 °C.
 Het is boven 0 °C.
Het is**2 °C**.....



Het is onder 0 °C.
 Het is boven 0 °C.
Het is**- 6 °C**.....



Het is onder 0 °C.
 Het is boven 0 °C.
Het is - 5 °C.



Het is onder 0 °C.
 Het is boven 0 °C.
Het is 1 °C.

